

KHỞI ĐỘNG




Chủ đề 3

**LÀM QUEN VỚI HÌNH PHẪNG,
HÌNH KHỐI**

Bài 16

**ĐIỂM Ở GIỮA, TRUNG ĐIỂM CỦA
ĐOẠN THẲNG.**





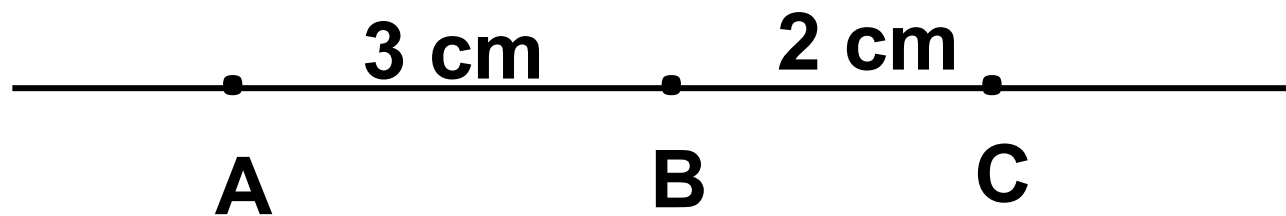
Khám phá

**Việt giúp tớ cắt đoạn dây
này
thành hai đoạn bằng nhau
nhé!**

**Ơ! Cậu phải cắt ở trung
điểm
của đoạn dây ấy.**



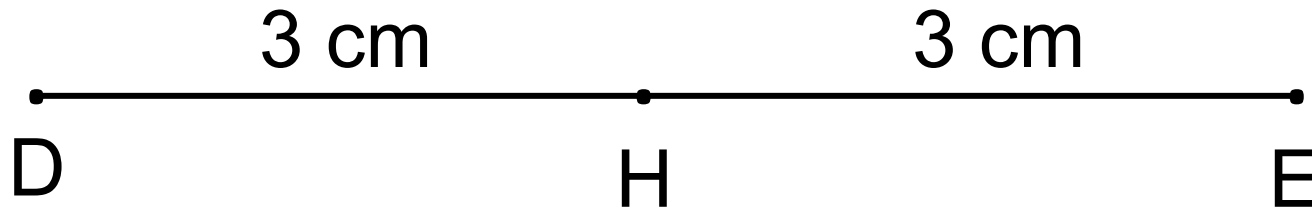
a) Điểm ở giữa



A, B, C là ba điểm thẳng hàng.

B là điểm ở giữa hai điểm A và C.

b) Trung điểm của đoạn thẳng



H là điểm ở giữa hai điểm D và E.

Độ dài đoạn thẳng DH bằng độ dài đoạn thẳng HE. Viết là $DH = HE$

H được gọi là trung điểm của đoạn thẳng DE.



luyện tập

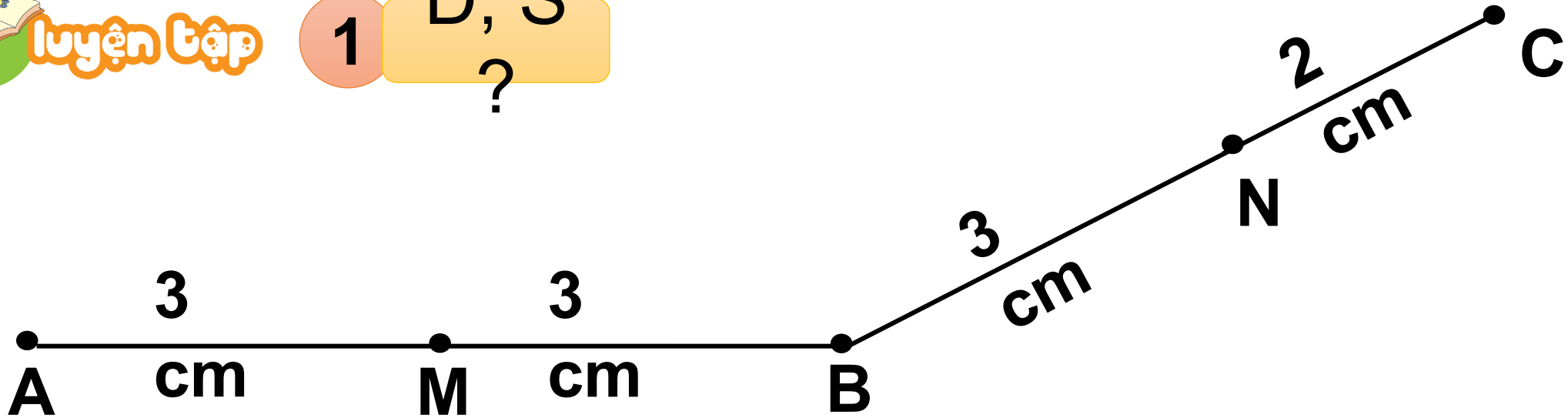
S/50



luyện tập

1

Đ, S
?



a) M là trung điểm của đoạn thẳng AB

Đ

b) N là điểm ở giữa hai điểm B và C

Đ

c) N là trung điểm của đoạn thẳng BC

S

d) M là điểm ở giữa hai điểm M và N

S



luyện tập

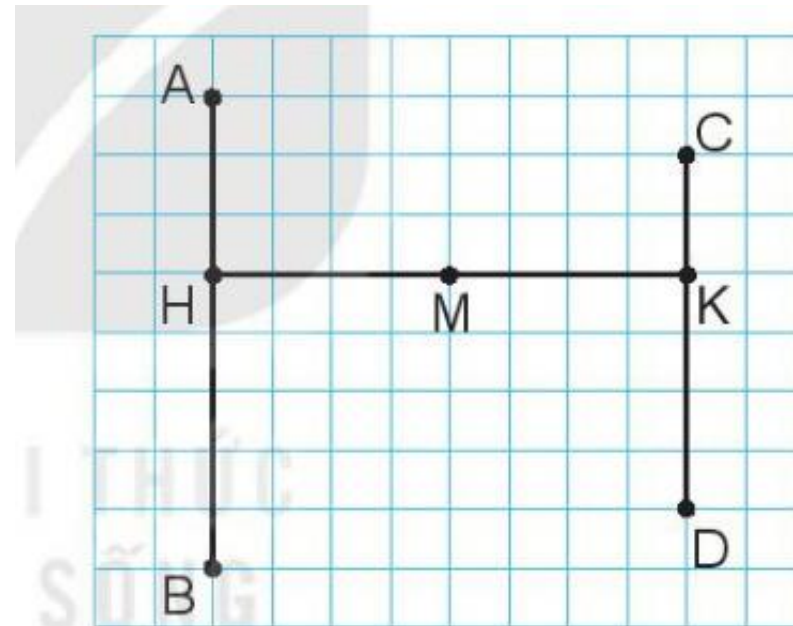
2

Trong hình
bên:

a) Tìm ba điểm thẳng hàng.

b) Điểm H ở giữa hai điểm

nào?
c) Điểm M là trung điểm
của đoạn thẳng nào?



a) Ba điểm thẳng hàng là: A,H,B; H,M,K; C,K,D.

b) Điểm H ở giữa 2 điểm A và B.


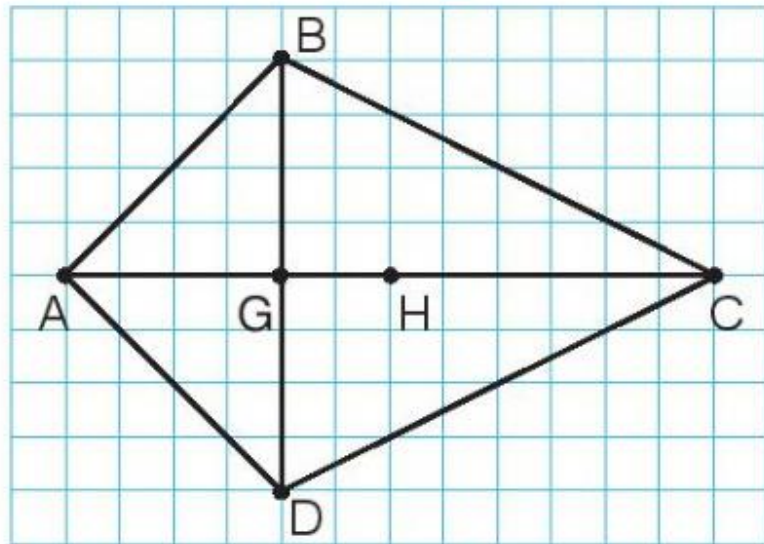
c) Điểm M là trung điểm của đoạn thẳng HK vì M là điểm giữa hai điểm H và K, $MH = MK$.



luyện tập

3

Nêu tên trung điểm của các đoạn thẳng AC, BD trong hình vẽ.



**Điểm H là trung điểm của đoạn thẳng AC.
Điểm G là trung điểm của đoạn thẳng BD.**

A cartoon illustration of a female teacher with long dark hair, wearing a pink long-sleeved shirt with a white collar and a small white pocket. She is smiling and pointing her right index finger towards the text on the chalkboard. The chalkboard is green with a brown frame and contains the text 'VẬN DỤNG' in large, bold, yellow capital letters. The background is a light gray wall with a subtle grid pattern.

VẬN DỤNG

HƯỚNG DẪN

- ✓ Thầy cô kích chuột vào màn hình để bắt đầu trò chơi.
- ✓ Kích chuột vào tên con vật để di chuyển tới slide có câu hỏi tương ứng
- ✓ Tại slide câu hỏi, kích chuột vào màn hình hiện đáp án (trắc nghiệm hoặc trả lời ngắn)
- ✓ Sau khi HS trả lời đúng câu hỏi, kích vào con vật tương ứng để quay về slide chính.
- ✓ Kích vào con vật đã chọn tương ứng để kính khí cầu bay lên.
- ✓ Sau khi hoàn thành các câu hỏi, kích vào “Khám phá” để chuyển đến slide kết của trò chơi.

BAY LÊN NAO

PLAY



Khám phá



Khỉ



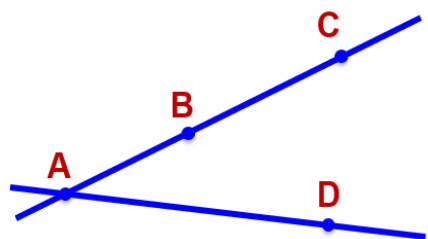
Ngựa vằn



Voi



Hươu cao cổ



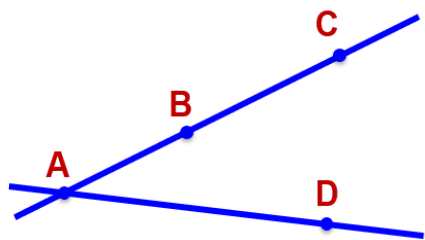
Điểm B ở giữa hai điểm nào?

A và C

A và D

C và D

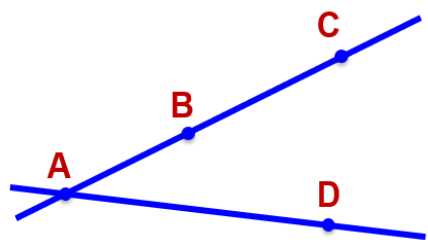




Hình vẽ bên có
mấy điểm



4



Nêu ba điểm thẳng hàng

A,B,C

A,D,C

B,C,D







Để có thể làm tốt các bài tập trên
em được điều gì?



DẶN DỒ

